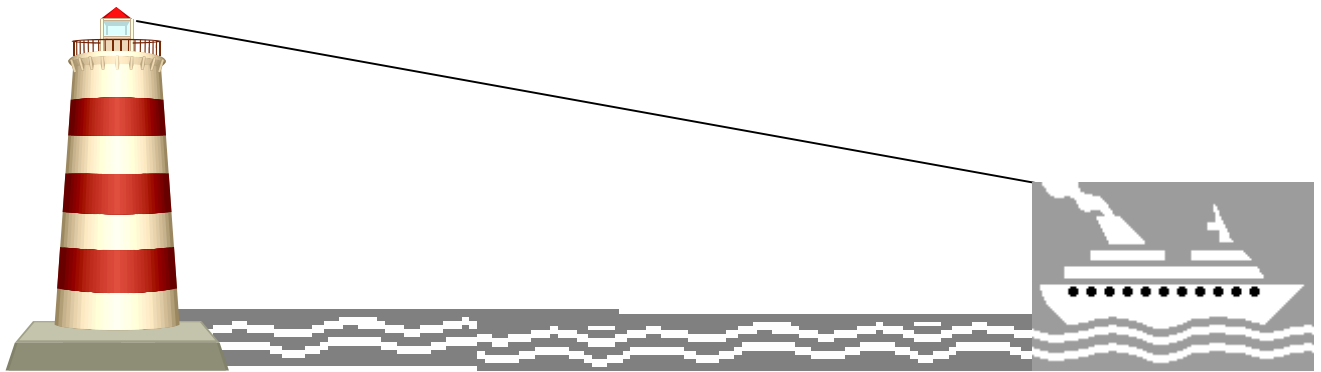




Reflexiones en el alba



La noche es muy fría. En la soledad de la madrugada, un farero divisa un barco con un ángulo de depresión de 18° . Mientras el humo de su pipa dibuja una compañía para su soledad, intenta calcular la distancia a la que está el barco. Ayúdalo sabiendo que el faro tiene 15 metros de altura.

Le bon jour Paris

Un turista apunta su cámara a la cima de la torre Eiffel con un ángulo de 35° . Su esposa insiste en afirmarle que tiene 305 metros de altura y él se distrae calculando a qué distancia se encuentra del coloso de acero. ¿A qué conclusión ha llegado?



Duro día de trabajo.

Colabora con el ingeniero calculando el ángulo de visual hacia su ayudante subido a un poste de 8 metros de altura y distante en 22 metros.

